

# Kit Representar y Escribir Numerales

## ACTIVIDAD 1:

¿Qué número es? Anota en la tabla.



•  $3000 + 200 + 4$

CM	UM	C	D	U

•  $10000 + 50$

CM	UM	C	D	U

•  $80000 + 100 + 3$

CM	UM	C	D	U

•  $2000 + 400 + 10$

CM	UM	C	D	U

•  $50000 + 8000 + 3$

CM	UM	C	D	U

•  $90000 + 500 + 9$

CM	UM	C	D	U

•  $20000 + 1000 + 10$

CM	UM	C	D	U

# Kit Representar y Escribir Numerales

## ACTIVIDAD 2:

Une con una línea.



•  $3 \text{ UM} + 2 \text{ C} + 1 \text{ U}$

---

54090

•  $4 \text{ DM} + 2 \text{ UM} + 5 \text{ C}$

---

729

•  $7 \text{ C} + 2 \text{ D} + 9 \text{ U}$

---

80351

•  $8 \text{ DM} + 3 \text{ C} + 5 \text{ D} + 1 \text{ U}$

---

42500

•  $9 \text{ UM} + 5 \text{ C} + 3 \text{ D}$

---

3201

•  $6 \text{ DM} + 7 \text{ C} + 8 \text{ U}$

---

9530

•  $5 \text{ DM} + 4 \text{ UM} + 9 \text{ D}$

---

60705

•  $1 \text{ DM} + 7 \text{ C} + 3 \text{ D}$

---

10730

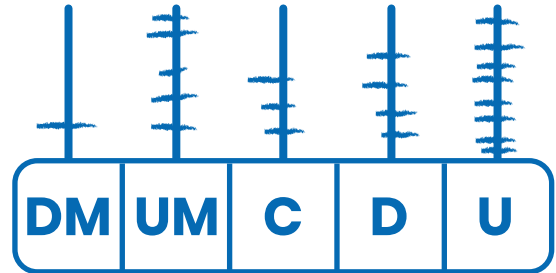
# Kit Representar y Escribir Numerales

## ACTIVIDAD 3:

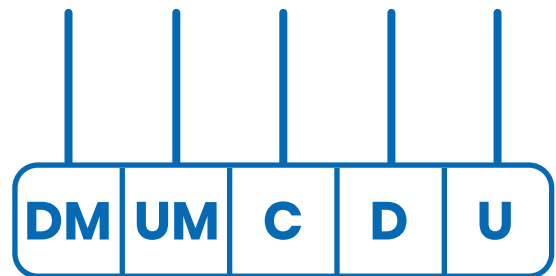
Representa en el ábaco cada número.



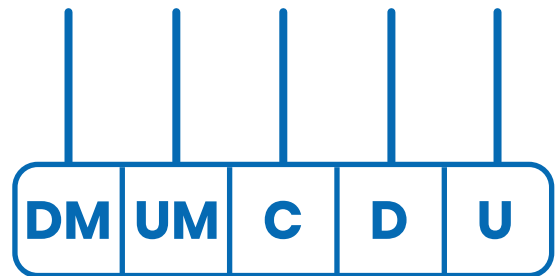
• **15348**



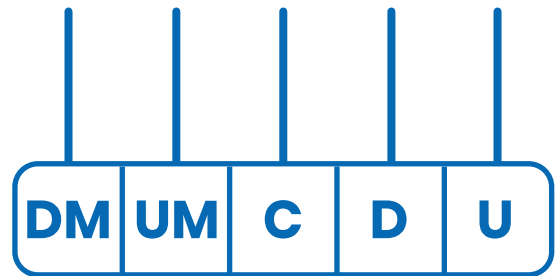
• **53042**



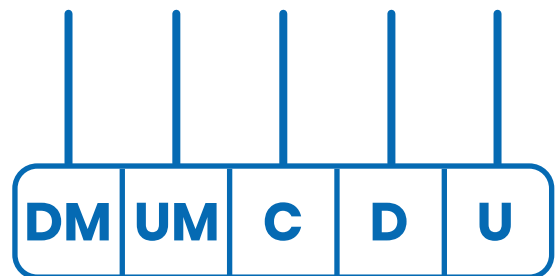
• **2034**



• **60391**



• **75204**

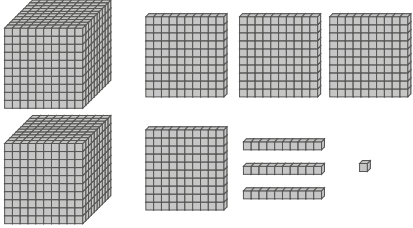


# Kit Representar y Escribir Numerales

## ACTIVIDAD 4:

Dibuja los números usando los bloques base 10.



<b>2431</b>	<b>741</b>
<b>Ejemplo</b> 	
<b>683</b>	<b>504</b>
<b>1206</b>	<b>2037</b>
<b>3061</b>	<b>1450</b>