

Inhaltsverzeichnis

Uhrzeiten und Zeitspannen		Seite
Bereiche		
A:	Die Uhr und ihre Stunden-Zahlen	1
B:	Uhrzeiten - Volle Stunden ablesen	3
C:	Uhrzeiten - Stundenzeiger einzeichnen	7
D:	Stundensprünge auf der Zeitlinie	11
E:	Zeitspannen bestimmen	13
F:	Anfangs- und Endzeiten bestimmen	15
G:	Der Minutenzeiger	18
H:	Uhrzeiten - Halbe Stunden ablesen	20
I:	30-Minuten-Sprünge auf der Zeitlinie	22

Inhaltsverzeichnis

Uhrzeiten und Zeitspannen		Seite
Bereiche		
J:	Uhrzeiten - Viertel Stunden ablesen	24
K:	15 - Minuten - Sprünge auf der Zeitlinie	28
L:	Uhrzeiten - Zeiger einzeichnen	31
M:	Zeitspannen bestimmen	35
N:	Anfangs- und Endzeiten bestimmen	38
O:	Sachaufgaben	41
P:	Textaufgaben	44

Die Lösungen
zu diesem Heft
findest du unter
folgendem
QR-Code:



A: Die Uhr und ihre Stunden-Zahlen


Trage die Stunden-Zahlen ein.

Information:

Der Tag beginnt
um 0.00 Uhr.

Um 12.00 Uhr Mittag
ist der halbe Tag um.

Stunden-Zahlen bis zum Mittag:




B: Uhrzeiten - Volle Stunden ablesen

Trage alle möglichen Uhrzeiten ein.



__ : __ Uhr
__ : __ Uhr



__ : __ Uhr
__ : __ Uhr




__ : __ Uhr
__ : __ Uhr



__ : __ Uhr
__ : __ Uhr



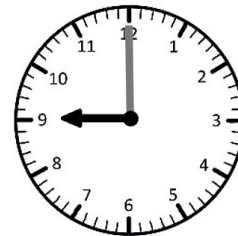
__ : __ Uhr
__ : __ Uhr



__ : __ Uhr
__ : __ Uhr



__ : __ Uhr
__ : __ Uhr




__ : __ Uhr
__ : __ Uhr

G: Der Minutenzeiger


Wie viele Minuten sind es?

1 Stunde
hat 60
Minuten.



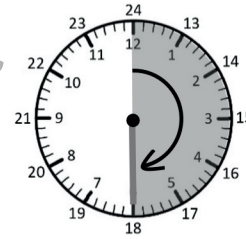
1 Stunde = _____ Minuten.

1 Viertel
Stunde
hat 15
Minuten.




1 Viertel Stunde = _____ Minuten.

1 halbe Stunde
hat 30
Minuten.



1 halbe Stunde = _____ Minuten.

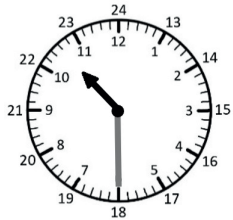
1 Drei-
viertel Stunde
hat 45
Minuten.



1 Dreiviertel Stunde = _____ Minuten.

N: Anfangs- und Endzeiten bestimmen

Wie viel Uhr ist es?



Es ist 10:30 Uhr.
45 Minuten **später**
ist es ____ . ____ Uhr.



Es ist 14:45 Uhr.
2 Stunden und
15 Minuten **später**
ist es ____ . ____ Uhr.



Es ist 12:15 Uhr.
4 Stunden und
30 Minuten **später**
ist es ____ . ____ Uhr.



Es ist 18:30 Uhr.
3 Stunden und
30 Minuten **später**
ist es ____ . ____ Uhr.



Es ist 3:45 Uhr.
8 Stunden und
30 Minuten **später**
ist es ____ . ____ Uhr.



Es ist 11:15 Uhr.
9 Stunden und
15 Minuten **später**
ist es ____ . ____ Uhr.

O: Sachaufgaben

Wann beginnen die Zooführungen?

MO - DO (alle 90 Min. = 1 ½ Stunden)

10 . 00 Uhr - ____ . ____ Uhr - ____ . ____ Uhr - ____ . ____ Uhr

FR (alle 45 Min.)

10 . 00 Uhr - ____ . ____ Uhr - ____ . ____ Uhr - ____ . ____ Uhr

____ . ____ Uhr - ____ . ____ Uhr - ____ . ____ Uhr - ____ . ____ Uhr

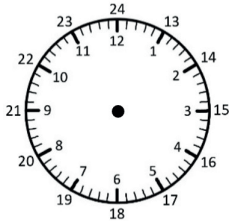
SA und SO (alle 30 Min.)

12 . 00 Uhr - ____ . ____ Uhr - ____ . ____ Uhr - ____ . ____ Uhr

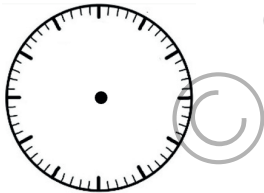
____ . ____ Uhr - ____ . ____ Uhr - ____ . ____ Uhr - ____ . ____ Uhr



P: Textaufgaben



Das Fußballspiel beginnt um 15.30 Uhr.
Die 1. Halbzeit dauert 45 Minuten.
Dann ist 15 Minuten Pause.
Die 2. Halbzeit dauert auch 45 Minuten.
Das Spiel ist um ____ . ____ Uhr zu Ende.



Das Popkonzert endete um 20.15 Uhr.
Der Popstar trat 1 Stunde auf, dann gab es
eine Pause von 30 Minuten und danach trat
er nochmal 45 Minuten auf.

Das Konzert begann um ____ . ____ Uhr.