



INHOUD

Graad 2

Huiswerkboek



2	Getalle; getalname
3	Minder as; meer as; kleinste; grootste
4-5	Rangtelwoorde; plekwaardes
5-6	Geld
6-7	Gebruik getallelyne om te bereken
8-9	Optel; aftrek; kombinasies tot 10
10-13	Patrone; volgorde; posisie
14-15	Tyd
16-19	Skatting; probleemoplossing; verdubbeling; herhaalde byvoeging
20-22	Getallelyne; ordening van getalle; getalname; rangtelwoorde
22-24	Meer as; minder as; plekwaardes
24-28	Probleemoplossing
28-29	Halwes; kwarte; getalsinne
30-32	Kombinasies; optel; aftrek; vermenigvuldiging; patrone; volgorde
32-34	Vorms; tyd; meting
35	Getalle; meer as; minder as; volgorde
36-37	Halvering en verdubbeling
38	Probleemoplossing
39	Kleinste; grootste; getalname en getalsimbole; plekwaarde
40-41	Geld
42-43	Optel; aftrek; vermenigvuldiging; kombinasies
44	Breuke
45	Patrone; vorms
46-47	Dae; maande; tyd; probleemoplossing
48	Skatting; getalname
49	Meer as; minder as; gelyk aan
50-57	Plekwaarde; probleemoplossing; geld
58-59	Optel en aftrek; kombinasies; 5x tafel
60-63	Breuke; patrone; vorms; simmetrie
63	Tyd

Datum: _____

Kwartaal / ²

Vul die ontbrekende getalle in.

1	2			
6		8		
			14	
		18		
	22			25

Skryf die getalname uit.


19 _____

21 _____

23 _____

Datum: _____ 2

Raaisels



Beantwoord die raaisels met die getal en die getalnaam.

1. Ek is 'n getal tussen 20 en 25 en ek bevat 2 ene en 2 tiene. Watter getal is ek? _____

2. Ek is 'n getal tussen 22 en 26 met 2 tiene en 4 ene. Watter getal is ek? _____

3. Ek is 'n getal wat 8 meer is as 17. Watter getal is ek? _____

Datum: _____ 3

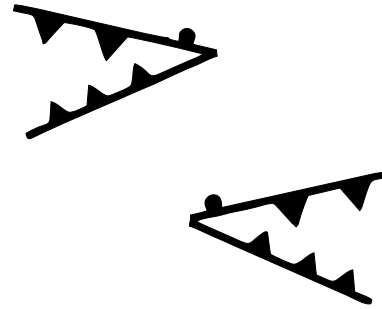
Beantwoord die volgende:

is 3 minder as 25.

is 3 meer as 20.

21 is 1 meer as

25 is 4 minder as



Plaas hierdie getalle in volgorde van die grootste tot die kleinste.

19	18	21	23	25	22
		24	20		

Datum: _____ 4

Plaas hierdie getalle in volgorde van kleinste tot grootste.

17		25
	10	
23		21

Trek lyne na die korrekte antwoorde.


20 + 5 is minder as 24

19 + 4 is gelyk aan 21

25 - 4 is meer as 24

Datum: _____ 5

Rangtelwoorde 4



Beantwoord die volgende vrae:

1. Watter meisie huil, die vierde of die vyfde? _____
2. Watter meisie het die langste hare, die negende of die tiende? _____
3. Watter gesig lyk kwaad, die sesde of sewende? _____
4. Watter gesig lyk verbaas, die sewende of die agtste? _____
5. Watter gesig is onder 'n hoed, die eerste of die tweede? _____
6. Teken 'n bril op die derde gesig.

Datum: _____ 6

Getalle

Skryf die getal.


1 tien and 1 een =

1 tien and 9 ene =

2 tiene and 0 ene =

2 tiene and 4 ene =

2 tiene and 2 ene =



Datum: _____ 7

Getalle

5

Wat is die waarde van elke syfer?


12 = tien en ene.

21 = tiene en een.

23 = tiene en ene.

25 = tiene en ene.

24 = tiene en ene.

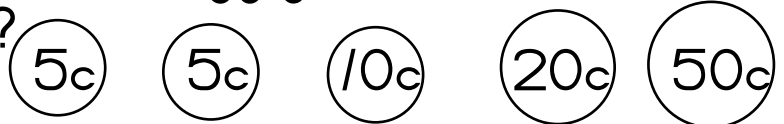


Datum: _____ 8

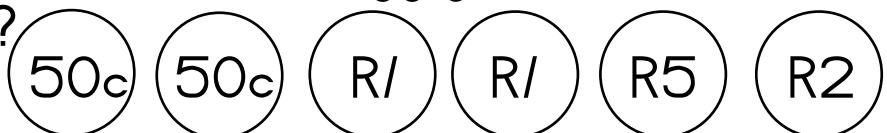
Geld

Teken jou antwoorde.

1. Watter van hierdie munte kan jy gebruik om 3 lekkers teen 20c elk te koop?



2. Watter van hierdie munte kan jy gebruik om 'n lekker vir R6 te koop?



Datum: _____ 9

R/O

R/O

1. Jou koeldrank kos R/7. Teke gebruik om daarvoor te bet

Hoeveel kleingeld sal jy

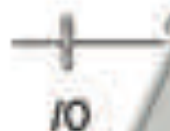
2. Jy wil 'n lekker vir R/10 en 'n koeldrank vir R/11 om daarvoor te bet. Jy het vir R9 en sal nodig kry

Datum: _____

Getallelyne

Wys hierdie

getallelyne.

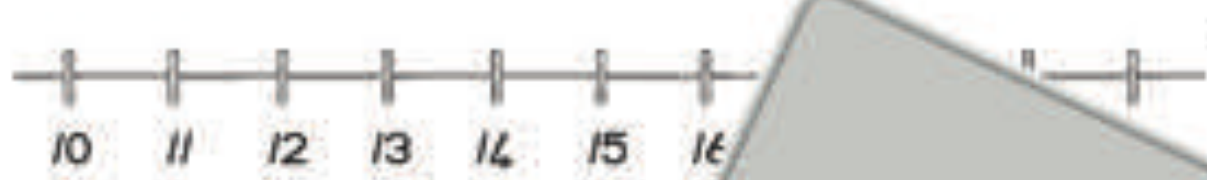


$12 +$



$13 + 6 =$ _____

Sample Book



$14 + 4 = \underline{\hspace{2cm}}$

Datum: _____

Kies 'n getal van elke blok om 14 te maak.

6	8	2
9	7	

2	8	9
7	6	

10	5
9	8
6	

$\square + \square = 14$

$\square = 18$

Trek 'n lyn na die k...

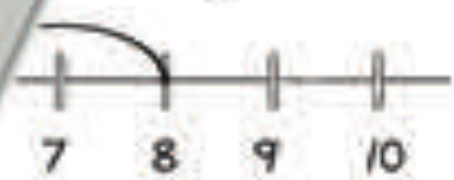
- 2 pare k...
- 1 paar h...
- 3 pare

6
4
2

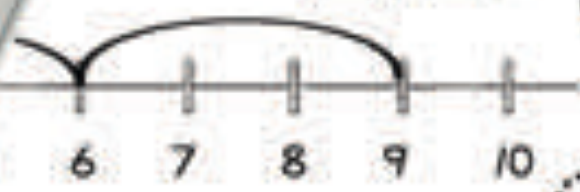
Datum: _____

Skryf die

en te gebruik.



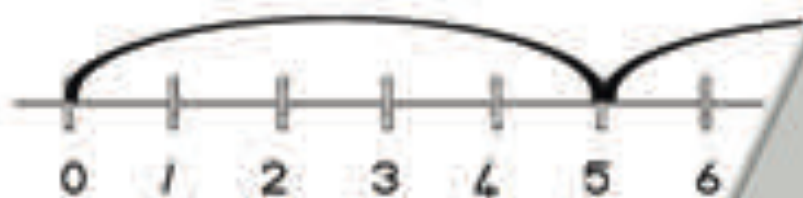
of $4 \times \square = \square$



of $3 \times \square = \square$



Sample Book



0 1 2 3 4 5 6

_____ of _____

Datum: _____



_____ x _____ = _____

Datum: _____

Optel oefening

12

$7 + 7 =$ _____

$8 + 11 =$ _____

$4 + 13 =$ _____

$15 + 1 =$ _____

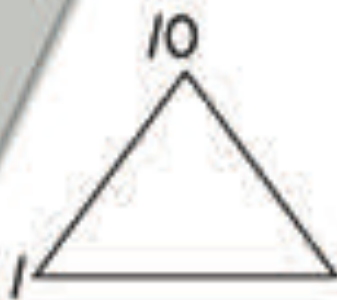
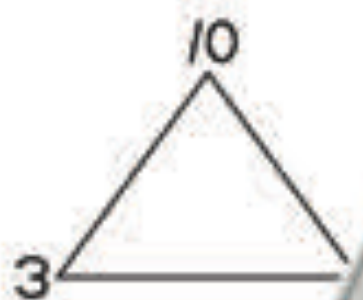
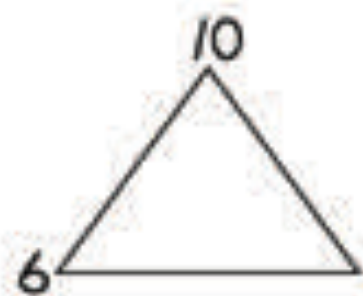
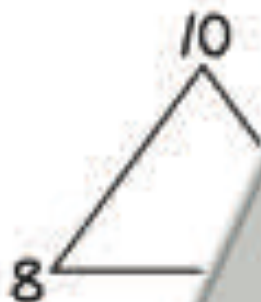
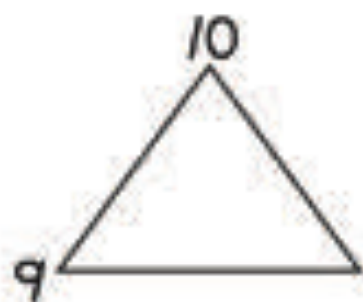
$18 + 2 =$ _____

Sample Book

Datum: _____

15

Getalkombinaties tot



Datum: _____

20

17

13

Afatrekoefening

$$16 - 8 = \underline{\quad}$$

$$19 - 5 = \underline{\quad}$$

$$14 - 6 = \underline{\quad}$$

$$15 - 3 = \underline{\quad}$$

$$12 - 1 = \underline{\quad}$$

Datum: _____

17

die patroon

a)



b)



Sample Book

Datum: _____

Vul die r

3; 4; ' _____ ; 10

10

18; 16; 14



Datum: _____

19



Datum: _____

Voltooi die get

64 : 66 : 68 _____

95 : 90 : _____

80 : 70 : _____

50 : _____

40 : _____



Sample Book

Datum: _____ 21 _____




Teken 'n meisie regs van die
Teken 'n appel links van die
Teken 'n blom tussen die
Teken 'n bal bo-op die sv



Wat is r

Wat

Datum: _____



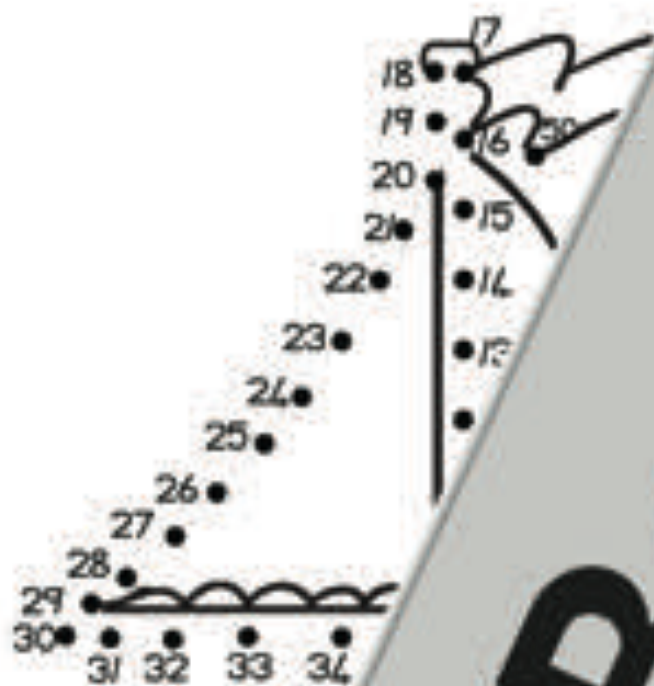
ke op, 2 blokke na regs, een
gs, een blok af, 3 blokke na links

Kleur u

ar die krokodil nou is.

Sample Book

Datum: _____ 23 Verbind _____ van 1 tot 50



Datum: _____



...rekende syfers op
...a gesig in.

...die wysters op die klok
...sig om 4-uur te wys.

3.1 ...at 2 ure voor 4-uur is?

...in 12-uur tot 10-uur?

Datum: _____ 25

1. Teken vierkante om by die woorde.



klein

2. Teken sirkels om by die woorde.



grootste

Datum: _____

20

	Do	Vr	Sa		
	4	5	6		
	10	11	12	13	
	17	18	19	20	
	23	24	25	26	27
	30	31			

1. Op _____ was die 17de Mei?

2. _____ week was die 2de Mei?

3. _____ Mei? _____

4. Is Mei _____ de maand van die jaar? _____

Datum: _____ 27

November

10

Gebruik die kalender om die vrae te beantwoord.

1. Watter dag is die 7de da

2. Watter dag is ná Satr

3. Watter dag is voor

4. Hoeveel dae is de

5. Is November

an die jaar?

Datum: _____

Teken die wi



3-uur



11-uur

Datum: _____ 29

Gebruik jou vinger: skat eers en meet
in die volgende inpas:

1. Die lengte van 'n teël op die vloer

Skatting: _____

2. Die lengte van jou kussing

Skatting: _____

3. Die lengte van jou skooltas

Skatting: _____

Datum: _____

Gebruik 'n meetstok om
die huis. Teken

_____ van meet 3 items in
_____ stes in meters.



Do

_____ blokke lank is en die onderwyser
_____ seveel langer is die onderwyser se

_____ s.
_____ lessens

Sample Book

2. Die afstand vanaf die klaskarr
20 meter. As John hierdie af
aflê, hoeveel meter loop hy?



Datum: _____

1. Op die meetbalanser _____, sie dieselfde
massa as 15 blokke. _____ die massa as
35 blokke. Wat is _____



2. As die masr _____ met sy middagete
daarin net _____, en die leë kosblik het
dieselfde _____, wat was die massa van
John se _____



Dat _____

1. _____, ma 2 koppies meel nodig om
_____ meel om brood te bak en 4 koppies
_____ maak. As sy net genoeg meel het
om 7 kop _____, hoeveel meel het sy nog nodig?

2. Daar kom baie mense vir aander bestanddele verdubbel. Help hulle die hoeveelheid te kry.



Be	
3'	ys
	als sout
	ies melk

Datum: _____

tabel:

H	dubbel

Sample Book

D. 35
 el wiele?
 veel bene?





2 hande, hoeveel vingers

6 kinders, hoeveel ne



5 driehoeke, hoever

Datum: _____ 3/

1. As Kate 16 lekkers het e
het sy oor?

al lekkers

Two empty rectangular boxes for writing the answer to question 1.

2. Gift het 8 lekt

nodig om 20 te hê?

Two empty rectangular boxes for writing the answer to question 2.

3. Paul
aar

peet, dan het hy dieselfde
veel lekkers het Jean?

Two empty rectangular boxes for writing the answer to question 3.

Sample Book

Datum: _____ 40

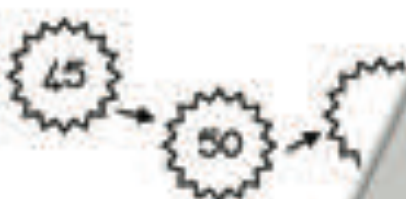

21

Kies 10 getalle tussen 125 en 150,
volgorde van die kleinste na die gr

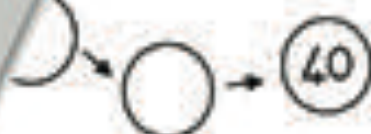
Datum: _____ /

Vul die ontbrekende getalle

3 → 6 → →



→ 30



Datum: _____

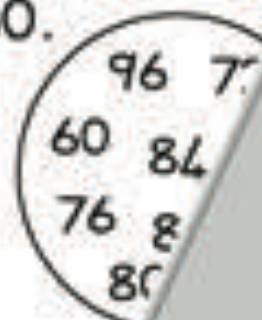
Gebru
agte

Begin by 100 en tel



Sample Book

Gebruik die getalle in die sirkel: Beg... en tel
agteruit in 4's tot by 60.



Datum: _____

Nommer die bote soos h...
Skryf die nommer
nie en skryf



eerste, twee

a die see.
imers het
e hier onder.

Datum

een v

de,

, tiende



twee voor	getal	twee na
	30	
	18	
	18	
	29	
	12	
	41	

Datum: _____ 45

28

Gebruik die woorde:

meer as

minder as

43 is _____

50 is _____

40 is _____

35 is _____

20 + 1 is _____

39 is _____

Datum: _____

10

10 minder

10

50 = tiene

30 = tiene

Datum: _____ 47

Hoeveel tiene en ene in hierdie getre

Getalle	Tiene
48	
37	
11	
20	
39	

48 = tiene tene

11 = ee tene

39 = ene ene

Datum: _____

Skryf getre probleme.

Tom se
Hoeveel
? ar tuin. Sy plant nog 18.

swembad swem en Brett
hoeveel lengtes kan Brett meer

Datum: _____ 49

28

Skryf getallesinne vir hierdie woorde.

Vickie het 42 kleurpotlode. Sy het 12 gegee.
Hoeveel kleurpotlode het elkeen nog?

Zara het 'n aantal plakkers en nog 21 oorgehad. Hoeveel het sy gegee gehad?

Datum: _____

Skryf getallesinne vir hierdie woorde.

Daar is 19 apes en 12 babas gehou. Hoeveel apes is daar?

Hoeveel apes het twee babas daar?

Daar is 1 boks en daar is 7 bokse. Hoeveel bokse is daar saam in?

Sample Book

Datum: _____ 51

26

Beantwoord die volgende woordpr

As Steven elke dag 2
piesangs eet, hoeveel
piesangs eet hy in 6 dae?

Antwoor

Hoeveel wiele is da
aan 8 fietse?

Datum: _____

As 2 kind
boeke lee
sal hul'



F



woord = _____

Datum: _____

53

27



As jy 4 rye mielieplante
met 6 plante in elke
ry plant, hoeveel plante is
daar altesaam?

Antwoord

Debbie lees 3 boeke w
elkeen 10 bladsye h
Hoeveel bladsye le
sy altesaam?



A

Datum: _____

Lee en Garr
en word
wat h
Hoevee



Dr

oord = _____

Sample Book

Datum: _____ 55

Twee kinders deel 5 sjokoladestafies. Hoeveel sjokolade kry elke kind?

Antwoord: _____

Vier kinders deel 6 lemoene. Hoeveel kry elke kind?

Ar _____

Datum: _____

1. Deel hierdie d _____

le op.



genoem.

half
kwart

2. Deel _____

a dele op.

rd 'n _____

genoem.

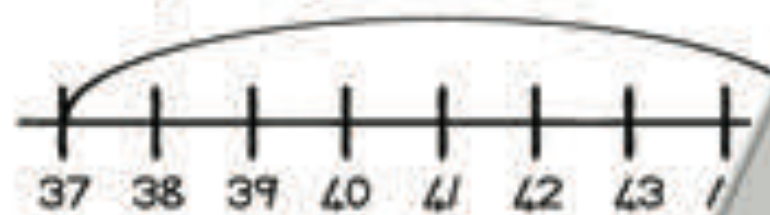
half
kwart



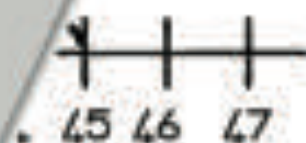
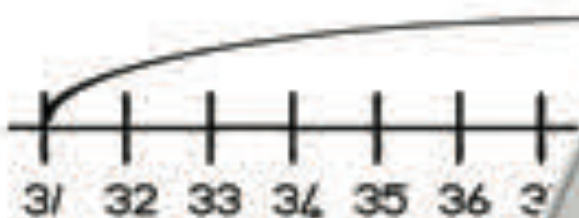
Sample Book

Datum: _____ 57

1. Skryf die getalsinne.

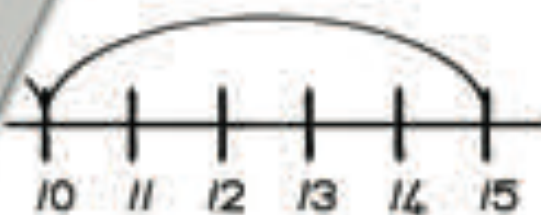


+ =



Datum: _____

1. Skryf die ge



= 15



x =

Datum: _____ 59 Getalreëles tot 15



15	
0	15

15	
1	

15	
	11

15	
5	

15	

Datum: _____

Skryf

ne.



dubbel

dubbel 20

--

--

~

dubbel 14

--

--

dubbel 9

--

--

dubbel 12

--

--

Sample Book

Datum: _____

61 Aft

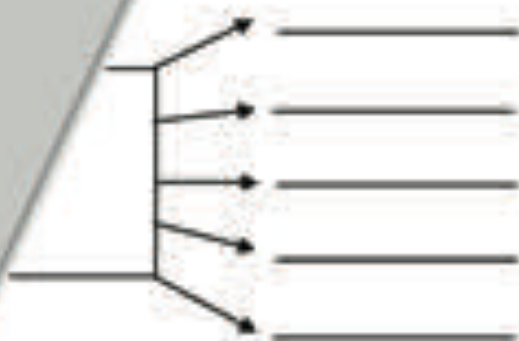
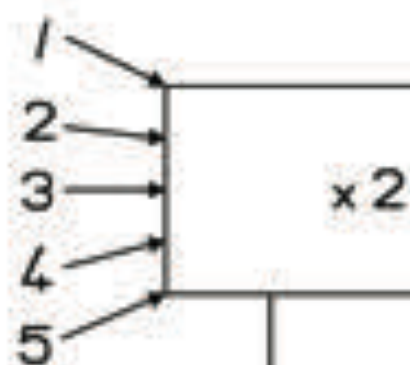
31

$$\square - 6 = \square$$

$$\square - 12 = \square$$

$$\square - 30 = \square$$

Datum: _____



Datum: .

ide moet wees.

Sample Book

Datum: _____ 64

Vul die ontbrekende g

150 ; 140 ; _____ ; _____ ; _____ ; _____

135 ; 130 ; _____ ; _____ ; _____

60 ; 56 ; _____ ; _____ ; _____

100 ; 97 ; 94 ; _____ ; _____

Datum: _____



kante

hoeke _____



kante

hoeke _____

Trek 'n lyn _____

mmetries te verdeel.

Datum: _____

rekte horlosies.



halftwaalf

halfvier

Sample Book

Datum: _____ 67

33

Dui die tyd op die horlosies aan. T. _____

Drew moet om 2-uur sokker-oefening toe gaan, maar is 'n halfuur laat. Hoe laat sal hy by die sokker-oefening aankom?

Nandi moet om 4-uur by 'n partytjie wees en sy is 'n halfuur te vroeg. Hoe laat kom sy by die partytjie aan?

Sample Book

Datum: _____

Omkring die l



A

g die langer een.



A



B

Omkr

Omkring die korter een.



A



B

A

Datum: _____

69

34



Stam: _____

1. Nummer die kruideniersv
swaarste tot die ligste. 5

nummer 1.

2. Wat is die totale mas

vare?



3. Hoeveel pakke
van een pak r

aan die massa

Datum: _____



3



4

vat die meeste?

er bevat die minste?

Sample Book

Datum: _____

71

Kwartaal 3

1	2	3	4	5	6	7	8
11	12	13	14	15	16	17	18
21	22	23	24	25	26	27	28
31	32	33	34	35	36	37	38
41	42	43	44	45	46	47	48
51	52	53	54	55	56	57	58
61	62	63	64	65	66	67	68
71	72	73	74	75	76	77	78

getalle

le

je

getalle

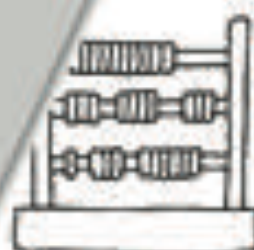
groen

die getalle
50's blau in.

Datum: _____

getalle in..

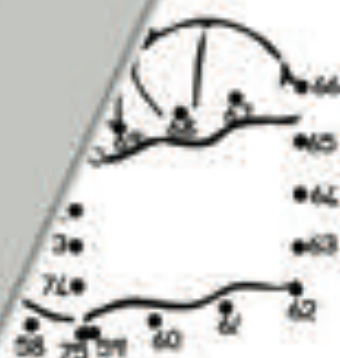
is



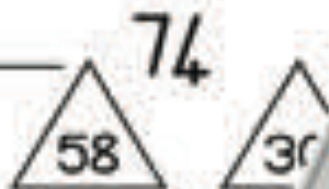
Datum: _____

verbind die kolle van 51 tot 75

Sample Book



Datum: _____



1. Watter is die grootste getal?

2. Watter is die kleinste getal?

3. Watter getal is gelyk aan 74?

Datum: _____



Voorbeeld

_____ a van 6

1. Helfte van 32 = _____

_____ van 48 =

3. Helfte van _____

Helfte van 72 =

5. _____

6. Helfte van 22 =

Datum: _____

76

Verdeling

37

1. Ons verdubbel 'n getal en die ant

Wat is die getal?

2. Ons verdubbel 'n getal en

Wat is die getal?

3. Verdubbel 34 =

4. Verdubbel 25 =



Datum: _____

Ouma bak 24 kol
die res vir Lindi

vir Sam en



antwoord = _____

Oupa k
75 v

bedskapkis. Hy benodig
pykers sal hy moet koop?



Antwoord = _____

Sample Book

Datum: _____ 78

Sipho het 53 plakkers bymekaargemaak.
Hy het nou 74 plakkers. Hoeveel het hy nou?

Daar was 41 aarbeiplante in die tuin.
Nou is 15 aarbeiplante uitgedie.
Twee van die aarbeiplante is
Tim uitgehaal?

Datum: _____

Die sokkerspan van die skool het
vandag teen die span van die
nabye span gespeel. Die span
het 12 doelpunte gemaak.

Sarah het 40 pakkies skyfies vir haar
partyskeel gekoop. Sy het
nou 37 pakkies skyfies.
Hoeveel pakkies skyfies het sy
gekoop?

Datum: _____ 80

Skryf hierdie getalle in volgorde van die kleinste tot die grootste.

69	14	28	11	2	<input type="checkbox"/>	<input type="checkbox"/>	<input type="checkbox"/>
16	60	26	6	46	<input type="checkbox"/>	<input type="checkbox"/>	<input type="checkbox"/>
65	15	75	5	50	<input type="checkbox"/>	<input type="checkbox"/>	<input type="checkbox"/>
70	2	57	61	41	<input type="checkbox"/>	<input type="checkbox"/>	<input type="checkbox"/>

Datum: _____

Skryf die getalname op.

55 _____

72 _____

aght-en-vyftig _____

_____stig _____

_____ewentig _____

Datum: _____

Tel die talle in volgorde van klein tot groot. Skryf die aantal neer.

Voortel die talle in volgorde van klein tot groot. Skryf die aantal neer.

23 _____

Sample Book

Datum: _____ 83

46

Skryf die korrekte getalle in die blokke.

$$67 = 60 + \square$$

$$23 = \square + 3$$

$$59 = 50 + \square$$

$$14 = \square + 4$$

Datum: _____

Ek het twee 10c-ruil
en een 50c-munt en
5c-munt.
Hoeveel geld het ek?

Nicky het 'n
en een R20.
Hoeveel
kry as

Antwoord = _____

Datum: _____

Antwoord = _____



Sample Book

Hoeveel sal dit kos as
Devin 2 sjokolades vir
R9 elk en 'n drankie vir
R8 koop?

Datum: _____

Pat koop 5 lekkers vir
75c. Wat betaal sy
/ lekker?



Pat spaar
R6. Hoev
sy ná /:

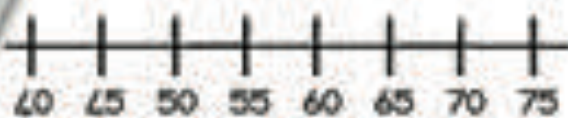
voord = _____



Datum: _____

Gebri

e help optel.



$40 + 0 = \underline{\quad}$

$45 + 25 = \underline{\quad}$

$40 + 10 = \underline{\quad}$

$50 + 5 = \underline{\quad}$

$25 + 20 = \underline{\quad}$

Datum: _____ 88

8

Gebruik die getallelyn om jou te help.



$55 - 15 =$ _____ $60 - 10 =$ _____

$75 - 5 =$ _____ $65 - 2 =$ _____

Datum: _____

Gebruik 'n getal uit elke getalsinne en hul antwoorde om 'n getal te tel.



Sample Book

Datum: _____

1. Trek _____

2. Trek 46 af van 72.

4. Trek 13 af van 70.



Datum: _____ 91

Verbind die getalle wat optel na

- 8
- 9
- 16
- 5
- 10
- 17
- 18
- 6
- 7
- 1

Datum: _____



$10 \times 4 = \underline{\hspace{2cm}}$

Datum _____

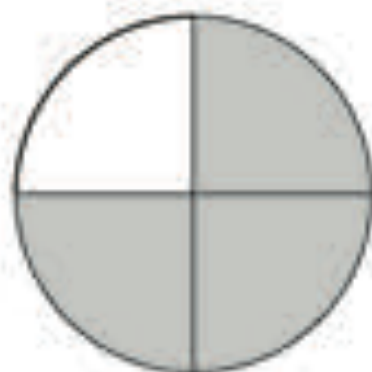
Klei _____

hierdie vorms in.

Sample Book

Datum: _____ 9/4

Omkring die vorm wat / kwart wu



Omkring die vorm wat /



Datum: _____

Kopieer en volt



Sample Book

Datum: _____ 96

Voltooi die patrone deur die ontbrek

«

vul.

45 ; 40 ; 35 ; _____ ; _____ ; _____

180 ; 170 ; 160 ; _____ ; _____ ; _____

96 ; 99 ; 102 ; _____ ; _____

168 ; 164 ; 160 ; _____ ; _____

176 ; 174 ; 172 ; _____ ; _____

Datum: _____

Trek lyne om die

verbind.



silinder



sfeer

prisma

Sample Book

Datum: _____ 98

Vul die ontbrekende dae van die week in.
die vrae oor die maande van die jaar.

Dinsdag
Donderdag
Sondag

1. Watter dae is die week?

2. Wat is die naam van die maande van Februarie?

3. Watter dae is die week?

Februarie?

Datum: _____

Teken die tyd op.

1. As Nandi oorkom haar 'n hoofdpijn, die huis.

Wat wees en dit neem sy laat moet sy vanaf _____

2. K...
...
...

drie en hou vir een en 'n uur dit op?



Sample Book

Datum: _____ 100

47

Pa vertrek om 1-uur in die middag
Johannesburg en arriveer om 'n
aand.

Vir hoeveel uur het hy gereis?

Ben begin om kwart vo
kwart oor 6 klaar dae
om sy huiswerk te d

is
aneem

Datum: _____

As Pieter 3
liter sal hy

k nodig het, hoeveel
ê?



As 'n
br

water drink en elke bottel
drink hy in 'n week?



Skat hoeveel voëls daar is.

Skatting: _____

Datum: _____

Omkring hierdie getal en dan die getalle op

skryf

veertig een
twee-en-

g tagtig
twintig

e	e	n
x	v	b
u	e	r
i	d	
x	v	
t		
v		
o	v	c
r	t	i
e	n	i
u	f	t
p	t	i
r	t	i
e	r	t

Datum: _____ 104

Gebruik hierdie getalle om die sirk

Minder as 60	
<input checked="" type="radio"/> 56	<input checked="" type="radio"/> 58
<input type="radio"/>	<input type="radio"/>
<input type="radio"/>	<input type="radio"/>

41

25

82

47

Datum: _____

Trek lyne sodat

$30 + 5$

$70 \cdot$

47

97

90

81

72

86

Dat _____ 06

S _____ de van die kleinste tot die grootste.

64

<input type="text"/>	<input type="text"/>	<input type="text"/>	<input type="text"/>	<input type="text"/>
----------------------	----------------------	----------------------	----------------------	----------------------

Sample Book

76 69 96 98 89

26 90 88 48 15

Datum: _____ 107

Skryf hierdie getalle in volgorde

ste.

50 60 70 92 87

86 91 71 66 52

62 78 98 81 55

Datum: _____

ekende getalle in.



1ste



10de



11de



20ste

Datur

Vul die ontbrekende getalle in.

3

1 tien en 1 een

8 tiene en 7 ene

9 tiene

7 tiene en 2 ene

Sample Book

Datum: _____ 110

31

Wat is die waarde van elke onderst

$16 = \underline{\hspace{2cm}}$

$78 = \underline{\hspace{2cm}}$

$84 = \underline{\hspace{2cm}}$

$2^a = \underline{\hspace{2cm}}$

$90 = \underline{\hspace{2cm}}$

Datum: _____

Vier vissermanne vang dieselfde aantal visse.
Daar is 40 visse.
Hoeveel visse het elke visserman gevang?

Elke kind het 'n potlood.
in 'n potlood.
32 vetkryt.



Hoeveel is dit?

Antwoord = _____

Datum: _____

Ar
/

Antwoord = _____

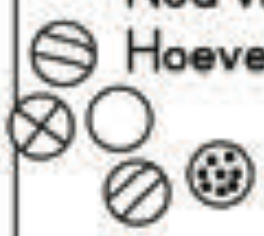
Sample Book

48 stoele moet in die saal gepak word. Twaalf kinders het gekom om te help. Hoeveel stoele sal elke kind pak?



Datum: _____

Craig het 50 albast.
Nou vind hy net 3€.
Hoeveel het hy verloor?



Daar is 48 vis troeteldierwagters by 'n bly oor. Sewe-en-twintig daarvan is verkoop. Hoeveel bly oor?

woord = _____

Datum: _____

Andrieus het 120
die k...
me...

pho
dy?

Antwoord = _____



Sample Book

Daar is 36 rose in Gogo se
tuin. Mev Khumalo het 49
rose in haar tuin.
Hoeveel meer rose
het Mev Khumalo?



Datum: _____

Daar is 22 kinders in di
bus. Nog 3/ kinders k'
Hoeveel kinders is de
altesaam in die bus?

Alan vang 35 k
Colin vang 15
het hulle alt

voord = _____

Datum _____

Agt
lek!

ers. Hoeveel



Sample Book



Hoeveel vingers is aan 'n hand?



Datum: _____



As daar 6 katte is, hoeveel altesaam?



Tannie Jen plant 6 spinne in elke ry. Hoeveel spinne plant sy?

Hoeveel spinne in elke ry?



Datum: _____

As 'n groep van 6 kinders moet 6 bladsye papier tussen 6 kinders moet al elke kind kry?

Hoeveel bladsye moet al elke kind kry?



Sample Book

By die akwarium wil die dolfyn
tussen 5 dolfyne verdeel. Hoeveel
Is daar enige visse



Datum: _____

As 3 vriende 'n ekstrak
hulle wil deel, hoe sal

tussen



8 vriende koo
Hoeveel sal r
deel.

Datum

Die
te

te klei om tussen 4 leeders
der kry?



Sample Book

As Adam en Jenna elf suigstokkies +
verdeel, hoeveel sal elkeen kry?

lle wil

90

Datum: _____

Drie kinders wen die eerr
moet die prysgeld van R
Hoeveel geld sal elke ki

Hulle
verdeel.



Vier kinders me
tussen hulle vr

60 gelykop
ke kind kry?



Datum

Van
Va
va

veelding van R90 koop.
ie het R44. Het hulle genoeg
te koop? Skryf die getalsin.

Sample Book

As elke kind in die klas R4 skool toe is en daar 25 kinders in die klas, hoeveel geld kan...



Datum: _____

Kal wil graag 10 los lekkers vir R3,50. Hoeveel geld sal sy kleingeld kry?



Jared het vyf 20c-munte...

...te en agt hy gespaar?

Datum _____

R1,0

$$= \text{R} \quad + 30c = \text{R} \quad$$

$$= 20c + \text{R} 1,80 = 20c \quad$$

$$= \text{R} \quad + \text{R}2 = \text{R} \quad$$

Tel hier die pyle te volg

...kaar deur

$$\text{R} \quad = \text{R}5 + \quad$$

Sample Book

Datum: _____ 125 Tel _____ sante bymekaar.

$$\boxed{5c} + 10c = \boxed{}c + 20c = \boxed{}$$

$$\boxed{}c = 50c + \boxed{}c =$$

$$+ 10c = \boxed{} + 20c + 5$$

Datum: _____

$$\boxed{} + 45 = 99$$

$$36 + \boxed{} = 8$$

$$\boxed{} + 17 =$$

$$21 + \boxed{}$$

$$= \boxed{}$$

$$\boxed{} = 36$$

$$17 = \boxed{}$$

$$5 - \boxed{} = 21$$

Datum: _____

$$30 + c$$

$$12 = \boxed{} + 60 = \boxed{}$$

$$6$$

$$\boxed{} + 12 = \boxed{} - 50 = \boxed{}$$

$$\boxed{} = 40$$

Datum: _____ 128

91 minus 38 =

88 neem weg 67 =

Tel 32 by 39 =

Datum: _____

Vind die getalle wat bym _____ n 20 te kry.

20	19		
	1		

Datum: _____


Gebruik jou kor _____ sinne te maak.

Voorbeeld:

$20 - 19 = 1$

Sample Book

Datum: _____



$$9 \times 5 = \square$$

Datum: _____

Omkring die getal

56 92

Omkring die

72 6

Omkring

7

Or

er is as 77.

Datu

$$80 + \square = 100$$

$$\square + 30 = 100$$

$$100 - 70 = \square$$

Sample Book

$100 - 70 = \square$

$\square = 100^{\text{st}}$

$100 - 50 = \square$

$100 - 10 = \square$

Datum: _____

Omkring die l



2 derde

1 helf

1 derde

1 kwart



3 kwarte

3 vyfdes

Datum: _____

Kopieer hier

e rye.



Sample Book

Datum: _____ 136

Vul die ontbrekende getalle in by hier

60 ; 65 ; 70 ; _____ ; _____ ; _____

190 ; 180 ; 170 ; _____ ; _____ ; _____

180 ; 177 ; 174 ; _____ ; _____ ; _____

156 ; 160 ; 164 ; _____ ; _____ ; _____

168 ; 170 ; 172 ; _____ ; _____ ; _____


Datum: _____

Kleur die sfere groen en die kubusse
oranje.





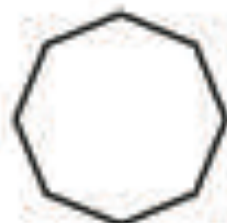
Datum: _____

Kyk na die vierkante oranje in, rooi en die reghoeke blou.



Datum: _____ 139

Trek 'n lyn om elke vorm simmetrie



Datum: _____

die tyd.



Sample Book