

Kwartaal 1 2-6	Getalle 1-10 skryf; tel; herken, identifiseer (doen soos benodig)
7-8	Meer as; minder as; dieselfde as; kleinste; grootste
8-11	Probleemoplossing
11-12	Kombinasies 3, 4, 5. Orden - kleinste; grootste
13	Orden; spieëlbeelde; patrone
14-15	Patrone; volg aanwysings; plaas in korrekte posisie in ruimte
16	Prismas en sfere; kleinste en grootste
17-19	Tyd - oggend; middag; aand ... dae; maande
19-20	Grootte - skat en meet
21	Gewig - swaar en lig
Kwartaal 2 22	Skat en tel; baie en min
22-24	Ordering: meeste; minste; kleiner; groter; groepe van 2
25-27	Groepe van 5; tel in 2s, 5s en 10e; halvering; verdubbeling; probleemoplossing
27-30	Optel; byvoeging; probleemoplossing
30-32	Geld
33-35	Optel; aftrek; kombinasies van 6; 7; getalsinne; ordening
36	Patrone
Kwartaal 3 37-41	Tel; ordening; meeste; minste; baie; min; meer; minder; dieselfde as
41-43	Probleemoplossing met optel, aftrek en verdeling
44-45	Geld
45-49	Optel; aftrek; kombinasies 8 en 9; getalsinne; verdubbeling
50-51	Patrone; tel vorentoe en agteruit in 2's; 5's; 10'e
51	Rigting en posisie in ruimte
52-53	Simmetrie; langer; korter; datahantering
Kwartaal 4 54	Tussen; voor; na; bypassende pare
55-56	Kleinste tot grootste; rangtelwoorde
56-57	Opbreek van getalle; tel in en groepeer 2's; 5's; 10'e
58-60	Probleemoplossing - optel; aftrek; groepering; verdeling
61	Geld
62	Optel; aftrek; kombinasies van 10
63	Probleemoplossing
64-65	Minder; meer; ordening; voor; na; halvering
66	Verdubbeling; patrone
67-68	Getalpatrone; posisie in ruimte; sfere; prismas; vorms; simmetrie
69	Tyd; maande
70-71	Meting - lengte; gewig; kapasiteit

Datum: _____

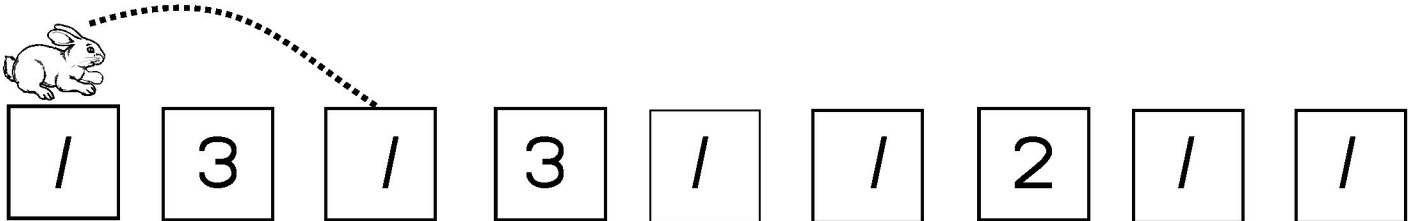
1

2

1. Teken oor die getalnaam en die getalwoord. Kies 'n voorwerp by die huis en teken dit in die eerste blok.



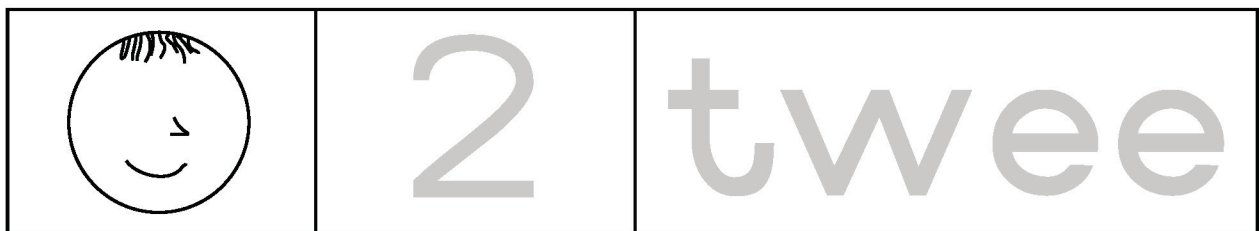
2. Help die hasie om na die blokke te hop wat dieselfde getal in het.



Datum: _____

2

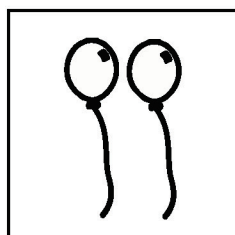
1. Teken oor die getalnaam en die getalwoord en teken dan 2 (twee) oë en 2 (twee) ore op die gesig.




2. Omkring die korrekte getalle.




1 2 3




1 2 3



1 2 3



1 2 3




1 2 3

Datum: _____

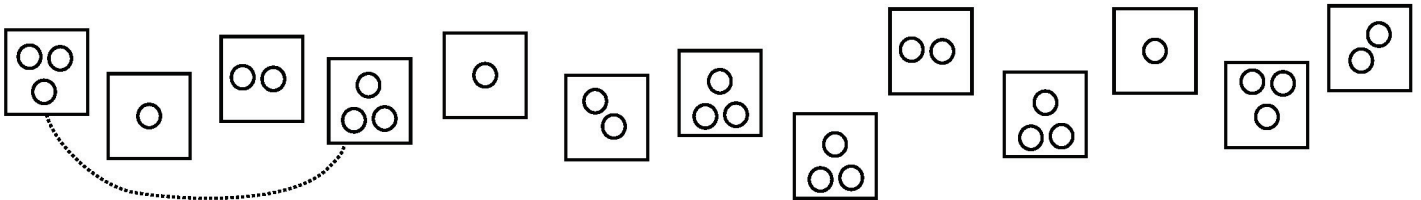
3

3

1. Teken oor die getalnaam en die getalwoord en teken dan 3 (drie) blomme en 3 (drie) vensters.



2. Koppel die blokke wat elkeen 3 (drie) kolle bevat.






Datum: _____

4

1. Teken oor die getalnaam en die getalwoord.




2. Kleur vier voorwerpe in elke prent in en teken dan vier voorwerpe van jou eie keuse.




Datum: _____ 5


1. Teken oor die getalnaam en die getalwoord.




2. Teken nog voorwerpe sodat daar 5 in elke groep is.




5



5



5






5

Datum: _____ 6


1. Teken oor die getalnaam en die getalwoord.



2. Teken 'n sirkel om die korrekte getal in elke ry.

	6	5
	5	6
	6	7

3. Teken 6 knope.



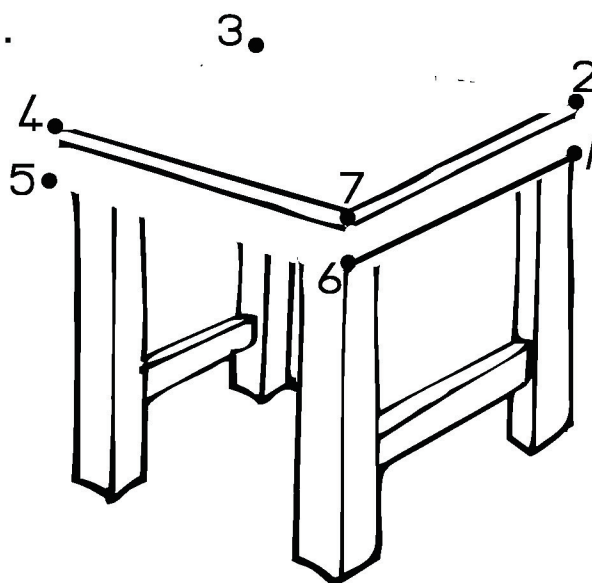
Datum: _____ 7

5

1. Teken oor die getalnaam en die getalwoord.



2. Verbind die kolle van 1 tot 7.

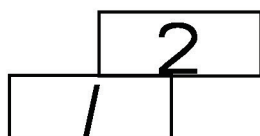


Datum: _____ 8

1. Teken oor die getalnaam en die getalwoord.



2. Teken 8 trappies. Die eerste twee is reeds vir jou gedoen.



Datum: _____ 9

1. Teken oor die getalnaam en die g

9	ne
---	----

2. Vind die geheime boodsk

h	v	e	s	f	n
1	2	3	4	1	12

3 8

1 9 11

5 3 6 4

Datum: _____

1. Teken oor die woord.


en

2. Voer naak.



--

--



Datum: _____ ||

1.1. Teken een (1) meer kersie op el



1.2. Teken twee (2) meer ker



1.3. Teken dieselfde ac _____ ng as wat
op die 1ste string



2.

3 is <input type="checkbox"/> r	<input type="checkbox"/> meer as 1.
4 is <input type="checkbox"/>	<input type="checkbox"/> meer as 1.

Datum: _____

Teken een (1) minder.

	<input type="checkbox"/>
--	--------------------------

selfde aantal as

<input type="checkbox"/> <input type="checkbox"/>	<input type="checkbox"/>
--	--------------------------

2 is minder as 3.

ns 2.

2 is minder as 4.

Datum: _____

1. Skryf die getalle van die kleinste tot die grootste deur by een (1) te begin en by tien (10) te eindig.

2. Water getal kom voor.

3. Water getal kom voor.

4. Water getal kom voor.

5. Water getal kom voor.

6. Water getal kom voor.

Datum: _____

1. Dan het Lulu 4 lekker lekkers. Hoeveel lekkers het Lulu nou?

2. Lulu het 3 lekker lekkers. Teken die lekkers vir haar 3 meer. Teken die lekkers wat Lulu nou het.



Datum: _____ 15

1. Dina het 5 kolwyntjies. Ken eet 1 kolwyntjies wat nou oor is.



2. Debbie het 6 eiers en sy eet 3 eiers wat sy oor het.




Datum: _____

1. Daar is 4 fietswagter. Hoeveel fietswagter sal

2. Daar is 5 kinders. Hoeveel kinders sal

3. Hierd is 3 moederkatte. Hoeveel moederkatte. Vul nog 2 antwoorde in. Die katte het 4 katte. Hoeveel katte sal hulle hanteer.

Hoeveel kinders sal hulle hanteer?



1		
4		

Datum: _____ 17

10

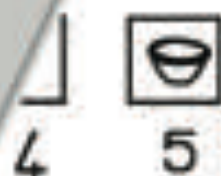
1. As Pete in blok 2 is, hoeveel blokke sy huis in blok 5 te kom?

Antwoord:

1

2. Die hond is in blok 1. Na _____ aan om sy kos in blok 5 te kry

Antwoord:



Datum: _____



1. Pumla het 4 meer. Teken die nou het.

ge-
nou het.
gee vir haar 2 meer en Siphon die totale aantal krale wat Thabi

Datum: _____

19

11

1. Vyf seuns het sokker gespeel. T
gegaan. Hoeveel seuns was oc

Antwoord:

2. Raj het 4 ballonne. 2 het v
Hoeveel ballonne het hy

Antwoord:

Datum: _____

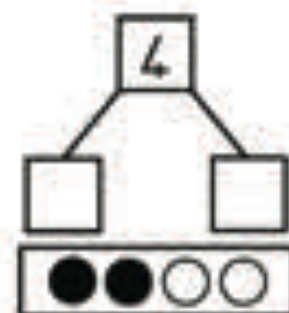
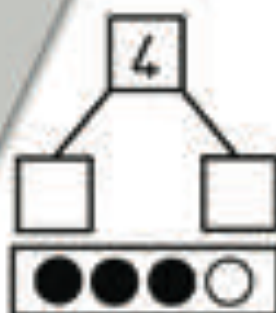
v

1.



Datum: _____

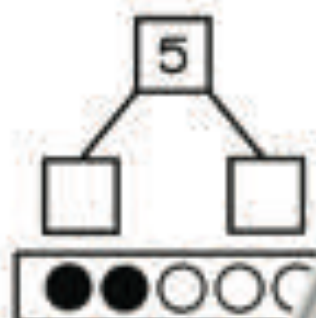
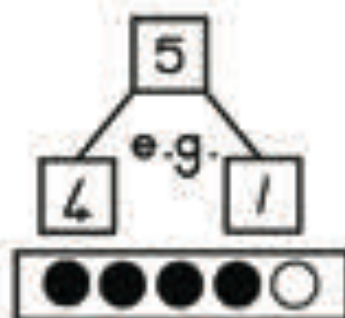
ekende getalle in.



Datum: _____ 22

Vyf

Vul die ontbrekend



Datum: _____

1. Rangskik hierdie getalle _____ na die grootste.



2. Vang vis vir getalle _____ in die blokkies neer.



Datum: _____

2?

meer as 1?

2 meer as 2?

is 5 meer as 0?



4. n

Sample Book

Datum: _____ 25



1. Water getal kom voor
2. Water getal is 2 m
3. Water getal is 3
4. Water getal is

Datum: _____

Kleur die blokkies in c' _____ 'n speelbeeld
van die ander vierke



Teken die patroon af op hierdie beker.

Date

Voltooi die patrone.

1. _____



Datum: _____ 28
Voltooi hierdie patr

14

a. 4, 5, 6, _____, _____, _____

b. 11, 12, 13, _____, _____, _____

c. 10, 9, 8, _____, _____, _____

d. 20, 19, 18, _____, _____, _____

Datum: _____

1. Teken 'n bo-op _____ riks van 'n .



3. Teken 'n _____




4. Kleur _____

4.1 _____ die huis.

4.2 _____ oor die bal.





Sample Book

1. Begin by die hond en tel 4 blokke na links.
2. 2 blokke na regs.
3. 3 blokke na regs.
4. 4 blokke op.
5. Wat is in daardie blok?

Staan die ster na die by:

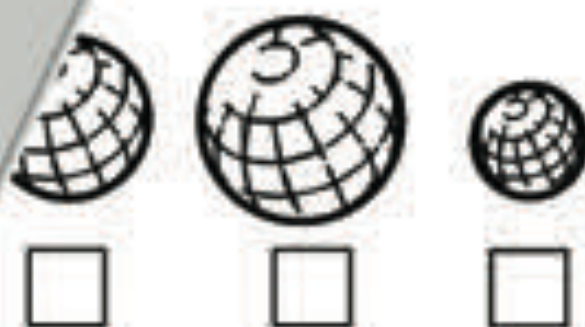
1. Kleur al die prisma's groen in er



2. Benommer hierd _____ die kleinste
na die grootste



3. Ben _____ volgorde van die grootste
na



Sample Book

Datum: _____ 32

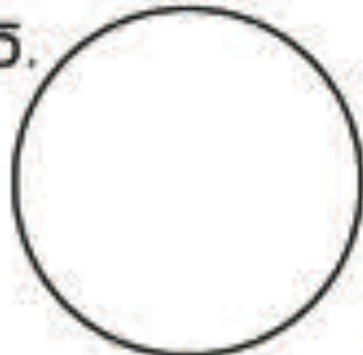
17

1. Teken sommige van die dinge wat die aand doen.

4 tot

Saans

5.



4.



Sample Book

Datum: _____

Pas die reël in die blokkies

1. ac

die getalle in die

dag 4. laat 5. vroeg

are aan en slaap in my bed.

en trek my skoolklere aan.

ek met my maat.

dit baie donker.

nd begin die son opkom.

Datum: _____ 34

1. Hoeveel dae is daar in 'n week?

2. Benommer die dae van die w

Sondag

Dinsdag

Donde

Woer

3. Gister was?

4. Vandag is?

5. More is dit?

Datum: _____

1. Hoeveel

2. Hierd

3. Ve

4. _____ wees?

5. _____ is my verjaardagmaand.

Datum: _____ 36

19

Teken 'n prent of skryf die antwoorde.

1. Neem dit langer om in die nag te

2. Neem dit minder tyd om _____ te kyk?

3. Is dit vinniger om _____ hardloop?

Datum: _____

1. Kleur die



2. Kleur



3. Kleur



in.



1. Skat die lengte van jou bed deur te meet. Meet dit dan.



--	--

2. Kies nog 3 voorwerpe breedte en meet die

... die idwydte.

--

--

--

Gemeet

...atting

Gemeet

Skatting

Gemeet

Sample Book

Datum: _____ 39

26

1. Teken 2 ligte voorwerpe.



2. Teken 2 swaar voorwerpe.



3. Teken die voorwerpe van 'n kussing.

4. Teken die voorwerpe van 'n lepel of 'n koppie.

Sample Book

Datum: _____ 40

Kwartaal 2

1. Skat eers hoeveel voorwerpe is c... en tel
dan om seker te maak.



Blomme

Skatting:

Telling:

ing:

Datum: _____

Driehoeke



Skatting:

Telling:

vierkante

Skatting:

Telling:


Datum: _____

1. Kleur die
kleur di



2. T

voorwerpe bevat en
ar voorwerpe bevat.



voorwerpe bevat en 'n groep wat

Datum: _____ 43

21

1. Nommer hierdie groepe van 1 tot 5 met die meeste (1) tot die minste (5).



2. Nommer hierdie van 1 tot 5 met die minste (1) tot die meeste (5).



3. Kleur die bus in wat die meeste passasiers bevat.



Datum: _____

Gebruik die getalle 6, 7, 8, 9 en 10.

6 7 8 9 10

1. Omkring die getal wat kleiner as 9 is.

2. Omkring die getal wat kleiner as 7 is.

3. Omkring die getal wat groter as 6 is.

4. Omkring die getal wat groter as 8 is.

6 7 8 9

Datum: _____ 45

1. Vul die ontbrekende getalle in.

1 2 3 4 5 7

1 2 3 4 5 6 7

10 9 8 6 5

10 9 7 6 5

2. Watter getal is tussen '_____'

3. Watter getal is tussen _____

4. Watter getal is ná 7 _____

5. Watter getal is ná _____

6. Watter getal is v _____

7. Watter getal is _____

Datum: _____

1. Oorslaantr _____ blokke in.

1

8 9 10

2. Omkri _____ 2.



oe van ?

ape van ?

oepe van ?

Datum: _____ 47

1. Gebruik oorslaantel om in die getre te tel.


Kleur hierdie blokke in.

1	2	3	4	5	6
11	12	13	14	15	16
21	22	23	24	25	26
31	32	33	34	35	36
41	42	43	44	45	46

2. Skryf die getalle neer v

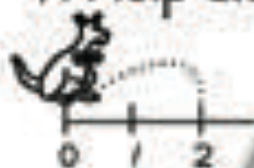
5 10

3. Trek 'n kring om elk je is daar?

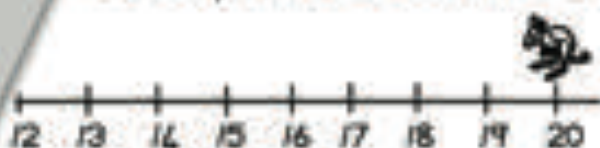


Datum: _____

1. Help die k



te hop. Tel aan in 2's.



2. Help



laar te hop. Tel aan in 5's.



3

wortel te kom deur in 10'e te tel.
ekende getalle in te vul.









10



Sample Book

Datum: _____ 49

1. Tayla en Raj het 'n paar suigstokkies.
 aantal suigstokkies sodat elkeen

Suigstokkies		Suigstokkies v
	6	
	2	
	4	
	8	
	10	

ar die

3

Datum: _____

Trek lyne na die getal

in die prente.



veel wiele?

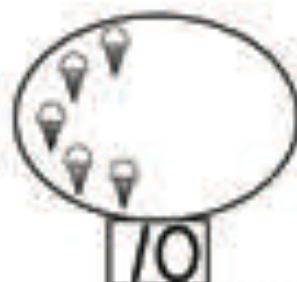
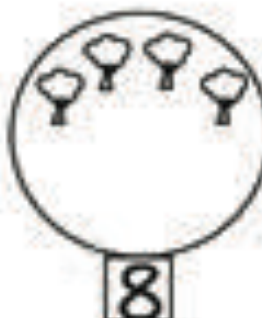
hoeveel vingers?

... hoeveel wiele?

hoeveel hoeke... hoeveel sye?

Dat:

Tet



Sample Book

1. Daar was 9 wortels wat in die tuin was. Tom het 5 vir sy slaai uitgehaal het, hoeveel wortels bly daar?

Tom



2. Vanoggend was daar 10 koekies in die fles. In die fles kyk, was daar 3 koekies opgeëet. Hoeveel koekies is opgeëet?



1. Daar was 5 meisies en 3 jongens in die klas. Hoeveel kinders was daar in totaal? Teken om die antwoord te wys.

5
3
Teken



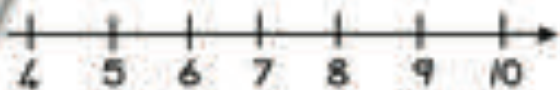
2. As 2 mami's en 3 kinders sou hulle hande was. Hoeveel hande is daar in totaal? Teken om die antwoord te wys.

2
3
Teken

1. Wys 5 by 3 by op hierdie reël.



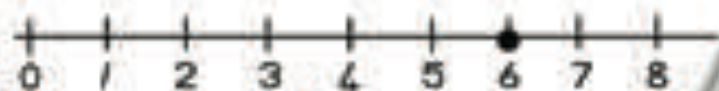
2. Wys 5 + 3 op hierdie reël.



Sample Book

Datum: _____ 55

1. Wys 6 op die getallelyn en voeg 4 by.



2. Op watter ander maniere kan jy _____ wys?

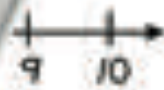


Datum: _____

1. Wys 2 op die getallelyn



2. Op watter ander



die getallelyne wys?

Datum: _____

1. 8 kinders gekon

2. _____ waarvan is blou. Hoeveel is blou?

Sample Book



Datum: _____ 58

1. Hoeveel hoeken is daar altesaam?
Teken jou antwoord.

2. Hoeveel hoeken is daar altesaam?
Teken jou antwoord.

Datum: _____

1. Hoeveel bene is daar in 'n hond is?
Teken jou antwoord.

2. Daar is vyf bene is daar altesaam?

Datum: _____

1. Hoeveel kinders is daar?

Sample Book

1. Daar is 3 pare handskoene. Hoeveel is dit? Teken jou antwoord.

Datum: _____

1. Daar is 2 perde in the st. daar altesaam?

2. Daar is 5 perde e perd skop sy 2 is oor?

Datum: _____

1. Watt te k

2

om se geldblikkie.



- g om 2 sjokolades vir 10c elk kry? Teken jou antwoord.



- g nodig om 2 oliebolle teen R3,00 elk geld te kry? Teken jou antwoord.



Sample Book

Datum: _____ 64

Hierdie is die muntstukke in T



1. Water muntstukke het sy nor
kos? Teken jou antwoord.

2. Water muntstukke sal s
te betaal? Teken jou ar

Datum: _____

Hierdie is



olikkie.



1. Jan se potlor
R5-munsti

voor met twee
y hy?

2. Jan ko
20c-

ny betaal daarvoor met 'n
eld kry?

Dat

06

iekker kos 2c. Hoeveel sal Sina

_____ c

Sample Book

Datum: _____




2. Hoeveel kleingeld sal Sina kry as sy _____ betaal?

3. Een albaster kos R1. Hoeveel kos 7 albasters te betaal?

4. Hoeveel kleingeld sal Gor _____ R5-stukke betaal?

Datum: _____

Teken die muntstukke:

 R1	
 R3	
 R5	

Teken _____

_____ betaal?

vir

Sample Book

Item te koop.



_____ is om elke item te koop.



Datum: _____ 68

$3 + 5 = \square$

$7 + 3 = \square$

$6 + 4 = \square$

$9 + 1 = \square$

$1 + 6 = \square$



Datum: _____

$9 - 6 = \square$

$10 - 3 = \square$

$8 - 5 = \square$

$9 - 7 = \square$

$7 - 1 = \square$

$2 = \square$

$5 - 3 = \square$

$7 - 4 = \square$

$10 - 5 = \square$

$10 - 9 = \square$

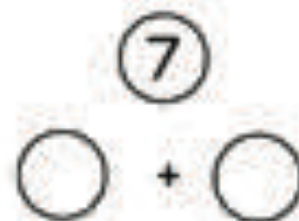
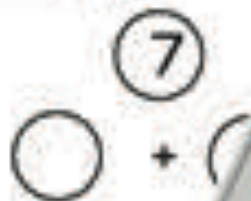
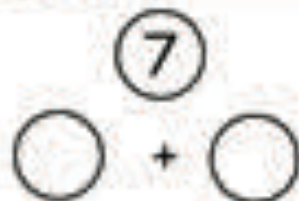
Datum: _____

$\textcircled{6} + \bigcirc$

$\bigcirc + \textcircled{6}$

$\bigcirc + \bigcirc$

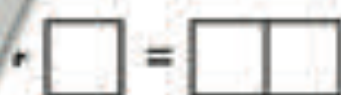
Datum: _____ 71



Datum: _____

sinne

Voorbeelde: 



Datum: _____

1. Plaas di
grootst

olgorde van kleinste na

10



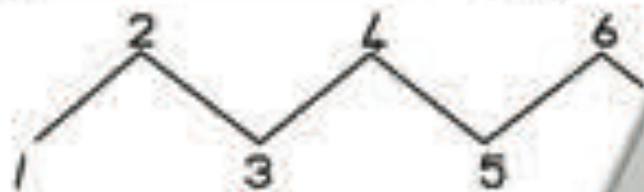
2. Pl

van die



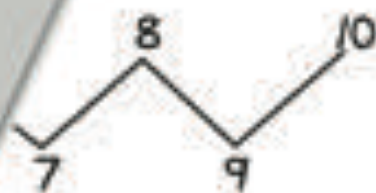
Sample Book

Datum: _____ 74



1. Water getal is 1 meer as 6
2. Water getal kom na 6?
3. Water getal is 2 mer
4. Water getal kom r
5. Water getal is t

Datum: _____





1. W... 9?
- 2... /?
- der as 6?
- oor 10?
- ussen 5 en 7?



Datum: _____ 76

38

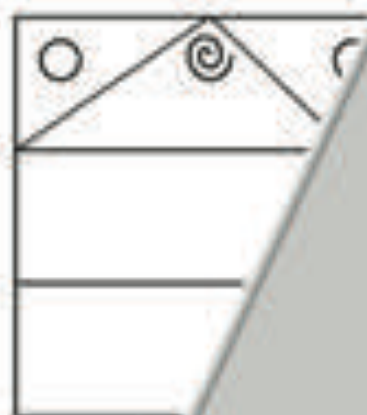
Kopieer hierdie p

1. 
2. 
3. 
4. 

Datum: _____

Versier

roon



Datum: _____

y

met hierdie patroon



Datum: _____ 79

Werkboek 3

Kies die korrekte antwoorde uit die keuses in die klein blokkies.



Datum: _____

1. Plaas Sam se soorte albasters in die sakkies, van die meeste tot die minste.



2. Teken die albasters in elke sakkie.

3. V. _____ albasters.

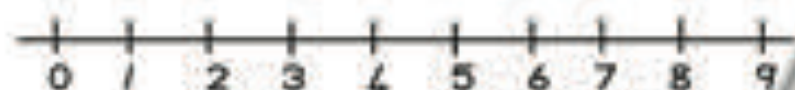


4. _____'s in hierdie sakkie.



Datum: _____ 81

30



1. Gebruik die getallelyn en skryf as 10 is in die dammetjie en die 1 is in die haaitenk.



Datum: _____

A

B



D

E



1. Watt

... as Sina gepluk?


2. v

... aantal aarbeie as Sina gepluk?

4. Hoeve

... Sina gepluk?

1. Trek 'n lyn om die stelle te verbind wat dieselfde aantal bevat of gelyk aan mekaar is. Skryf die naam van die voorwerpe langs elke prent.



Datum: _____

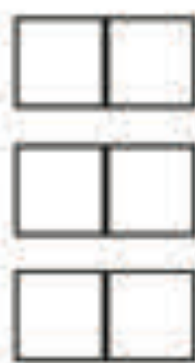
1. Help Amanat om sy huis te bou. Skryf die getalle 1-15 op die blokke.



2.1

3. _____?

4. Wane _____?



Datum: _____ 85

1. Verbind die kolletjies van 1 tot 15



2. Water getal is tussen _____

3. Water getal is tussen _____

4. Water getal is tussen _____

Datum: _____

Tel agteruit
ontbrekende



1. _____

+?

2. _____




- 10?

3. Wat is _____

voor 12?

Datum: _____ 87

1. Teken nog 10 appels by in elke blot
bestaande appels en skryf die ar

	
Totaal: <input type="text"/>	<input type="text"/>
	
Totaal: <input type="text"/>	Totaal: <input type="text"/>

Datum: _____

1. Nomti h
haar f

i gepak. Sy gee 10 vir
-?

<input type="text"/>	<input type="text"/>
----------------------	----------------------

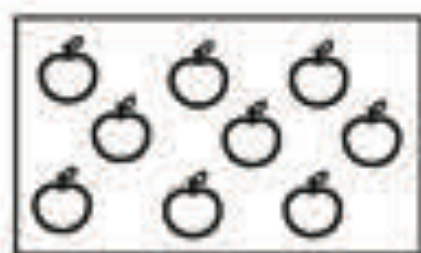
2. f

roeteldierwinkel. Agt word
-?

<input type="text"/>	<input type="text"/>
----------------------	----------------------

Datum: _____ 89

1. Adi pluk 9 appels. Mavis pluk 14. t
Mavis meer as Adi? Teken jou o



2. Oupa klim 6 trappies op
woonstel. Hoeveel tr



Datum: _____

1. Sewe kind
Hoeveel
abroodjies.
saam?

--	--

2. E
uan. Hoeveel appels
om drie appels aan het?



--	--

Datum: _____ 91

1. As 6 kinders elkeen dieselfde aantal
hoeveel albasters het hulle elkeen
albasters is? Wys hoe jy dit uit

2. Beth het $\frac{1}{4}$ koekies gebr... in 2
sakkies insit. Hoeveel k...
wees? Wys hoe jy dit



Datum: _____

1. Twee kinder
elke kind kr
hoe jy dit

veel kolwyntjies sal
e aantal kry? Wys



2. D... s. Hoeveel hoede sal elke kind
e aantal kry?



Sample Book

Datum: _____ 93

5c 10c 20c 50c R/

1. Jan het R15. Hy het R7 meer as Tim?

R

2. Suni het R9. Sy het R5 meer as Raj?

jeld het

R

Datum: _____

1. Anton se Teken di

R18 om te deel.
nd sal kry.

Thabo

2. T

om koop teen R3 elk.
dig om vir die kougom te betaal?

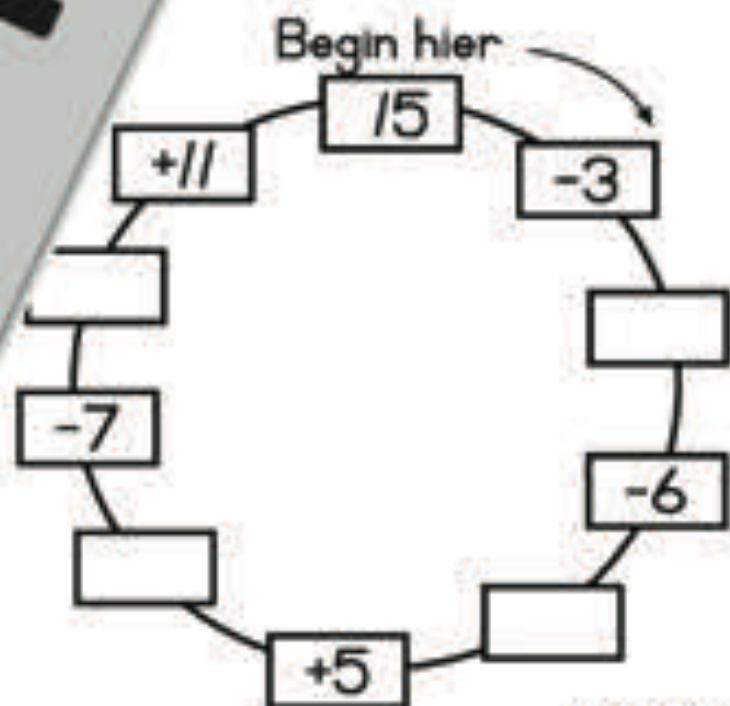
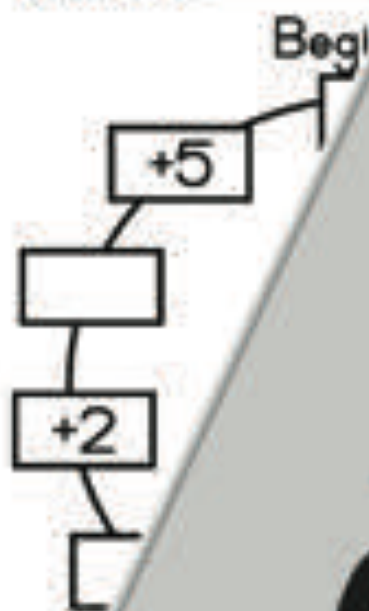
Datum: _____ 95



1. Hoeveel geld sal 3 meisies altesaam 5c het?

2. Annie het 20c. Sy koop 'n oorbê. Hoeveel geld sal sy oorhê?

Datum: _____



Datum: _____ 97

$10 + 4 =$

$7 + 7 =$

$13 + 2 =$

$14 - 7 =$

$11 - 2 =$



Sample Book

Datum: _____

$15 - 6 =$

$1 + 12 =$

$13 - 8 =$

$12 - 10 =$

$4 + 9 =$

$=$

$9 =$

$5 + 11 =$

$2 + 9 =$

$11 - 5 =$

Datum: _____

8

8

8

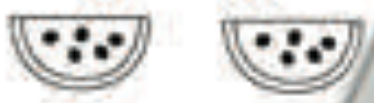
8

Datum: _____ 100

<input type="text"/>	<input type="text"/>	<input type="text"/>
<input type="text"/>	<input type="text"/>	<input type="text"/>
<input type="text"/>	<input type="text"/>	<input type="text"/>
<input type="text"/>	<input type="text"/>	<input type="text"/>

Datum: _____

1. Skryf die getalsir



$$\boxed{5} + \boxed{}$$



$$\boxed{4} + \boxed{}$$



$$\boxed{} + \boxed{} + \boxed{} = \boxed{}$$



$$\boxed{} + \boxed{} = \boxed{}$$

Sample Book

Datum: _____ 102

Dubbel 1 =

Dubbel 2 =

Dubbel 3 =

Dubbel 4 =

Dubbel 5 =

Dubbel 6 =

Dubbel 7 =




Datum: _____

Hoever

Hoer

Ho



Hoer

's?

Sample Book

Datum: _____ 10/4



Plaas die grootste

$4 + 12 \longrightarrow 15$

$2 + 10 \longrightarrow$

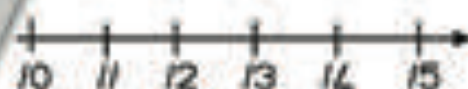
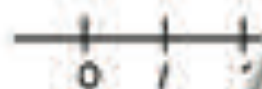
$6 + 9 \longrightarrow$

$3 + 8 \longrightarrow$

$5 + 7 \longrightarrow$

Sample Book

Datum: _____



$15 -$

12

$11 -$

$9 + \square = 15$

$7 + \square = 12$

$8 + \square = 13$

$6 + \square = 14$

$4 + \square = 11$

Datum: _____ 106

10

Kleur die korrekte blokkies in om

1	2	3	4	5	6	
11	12	13	14	15	16	
21	22	23	24	25	26	
31	32	33	34	35	36	
41	42	43	44	45	46	
50	51	52	53	54	59	
60	61	62	63	64	69	
70	71	72	73	74	78	79
80	81	82	83	84	88	89

Datum: _____

Kleur die korrekte blokkies in om die getal te vertoon.

20	21	22	27	28	29	
30	31	32	36	37	38	39
40	41	42	46	47	48	49
50	51	52	56	57	58	59

Voltooi

14

:

: 32 :

: : 20 :

30

: : :

Datum: _____ 108

Ontwerp jou eie patrone op hierdie bladsy. Die patrone van die insek moet dieselfde lyk.



Datum: _____

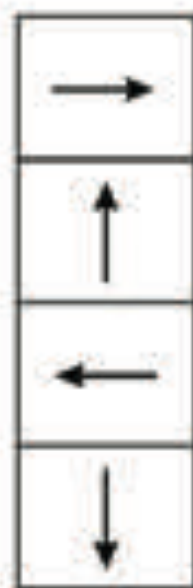
Trek lyne na die kor

Wys op

Wys links

Wys af

Wys reg



Teken

T

Teken 'n \triangle langs 'n ∇

Teken 'n pentagon bo-op 'n \square



Datum: _____

Voltooi die vorms deur die ander helfte hulle verskillende kleure in.

kleur



Teken een voorwerp wat kan rol en een voorwerp wat kan gly.



Datum: _____

Teken die ander helfte

on (spieëlbeeld).



Datum: _____

Trek 'n l

gste prent te laat pas.



er

inniger

stadiger



reën



lees 'n boek

skryf i.

Sample Book

Datum: _____

Gebruik 'n vuurhoutjiedosie as geskat

... dan:

Die lengte van 'n tafel.

ekat

Die lengte van 'n tapyt.

Die lengte van die venster.

Datum: _____

... ptember

		Dae					
Weer	Sonnig						
	Bewolk						
	Reën						
	Wind						
	Koud						

1. Op hr

2. Op

3.

...?

... iderig?

... koud?

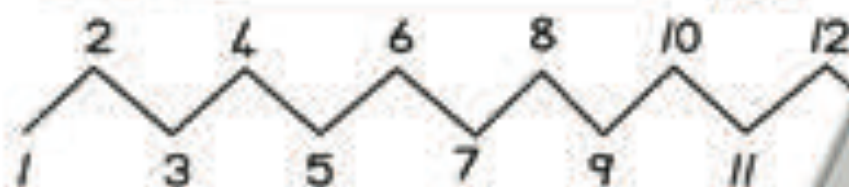
... algemene weer?

7. v

... ou jy die meeste?

Sample Book

Datum: _____ 115



Vul die ontbrekende getalle in.
Gebruik die bostaande getalle:

1. Skryf al die getalle neer v

2. Skryf al die getalle

3. Skryf die getal v

Datum: _____

Tel die voorwerpe
te verbind.

ooreenpassende stelle




Datum: _____ 117

Orden hierdie getalle van die kleinst

15 : 9 : 12 : 18



Orden hierdie getalle van die



19 : 1



Datum: _____

Kleur die 5de (vyf)



Kleur die 2de (twee)



Omkring



Omt



in.



Datum: _____ 119

Kleur die 1ste (eerste) vis in.



Kleur die 6de (sesde) skoelapper



Kleur die 4de (vierde) rok in



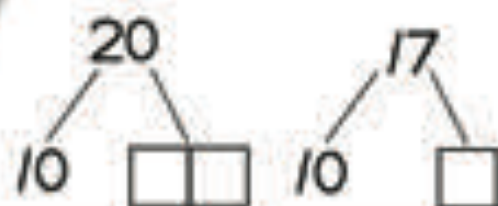
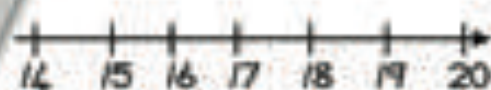
Kleur die 8ste (agste) l



Kleur die 7de (sewe)



Datum: _____



Datum _____



Tel in _____ al katte uit te vind.

Kies uit die y _____ alle.

28 22

12 30

Datum: _____ 121

87

X	△	△	△	△	△	X
X	X	X	X	X	△	△
△	X	△	X	△	△	△
△	X	△	X	X	X	△
△	X	△	X	X	△	
△	X	△	X	X	X	
△	X	△	X	△	△	

Vind die groepe van 5 △
vind hoeveel △ daar is
Kies uit die gegewe ge

25	35
15	30

Datum: _____

	•	•	X		X	X	X
	•	•				○	
	•	•		⊙		○	
	•	•		⊙		○	
	•	•				○	
	△	△		△	△	△	○
							○
							○
							○
							○
♡				♡	♡	♡	○

Vir _____
k' _____
eur elke groep in 'n verskillende

pe van 10 is daar?

Hoewe...
jaar altesaam?

Datum: _____ 123

1. Jane het 18 plakkers. Sy gee part
het sy 7 plakkers. Hoeveel plakker
gegee? Wys hoe jy dit u

2. Daar is 20 koeie. 13 is swart
nie? Wys hoe

Datum: _____

1. Ek het 16 balle. F van. Hoeveel het
ek oor? k het.

2. Selma h vir haar verjaardag.
Hoever

Dat: _____ 25

1. Die eerste pakkie het 19
pakkie het 12 lekkers. Hoeveel
die eerste pakkie?

2. Fay pluk // blomme. Haar maat pluk // hoeveel meer blomme het haar maat gepluk?

Datum: _____ 12

1. Een blompot het 5 blomme
daar in 4 blompotte wer

2. Julia se hen lê elk
dae lê?

Datum: _____

1. Deel 14
Hoevee

2. r yktallig in 4 kissies verpak moet
in elke kissie gepak word?

Sample Book



Datum: _____ 128

1. Daar is 2 paddas op elke blaar. Hoeveel blare wees? Wys hoe jy dit uitgewerk het.

2. Ek eet elke dag 4 appels. Hoeveel dae eet? Wys hoe jy dit uitgewerk het.



Datum: _____

1. Emily wil halssnoer maak. Sy het 19 krale. Hoeveel snoer sit? Wys hoe jy dit uitgewerk het.

2. 'n Mammoet is in elke rooste gelê. Hoeveel eiers is in elke aantal eiers in het?

Wys hoe jy dit uitgewerk het.



Wys hoe jy dit uitgewerk het.



Datum: _____ 30

1. Daar is 5 rye. Hoeveel wortels is in elke rye? Wys hoe jy dit uitgewerk het.



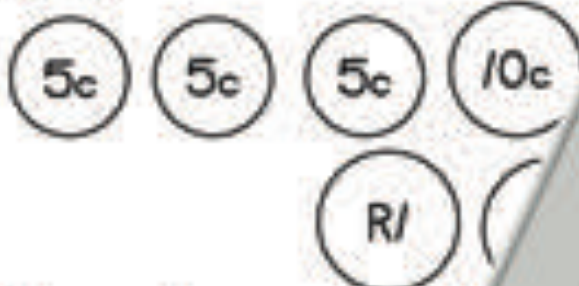
Sample Book

2. 'n Winkel verkoop tafels wat elkeen
daar 18 stoele is, hoeveel tafels is

le het. As"



Datum: _____ 13



2

1. Teken die muntstukke
wat R8,55 kos.

speelding

2. Teken die muntstukke
15c kos, kollekte
R6,10.

ik vir 'n lekker wat
akkie skyfies vir

Datum: _____

R20



1. D

3. Hy betaal
kleingeld sal hy kry?

Sample Book

2. Hoeveel kleingeld sal Molly kry as sy
teen R7 elk koop en met 'n R20-tr



Datum: _____

$9 + 6 =$

--	--

$12 + 6 =$

--	--

$16 + 3 =$

--	--

$19 - 8 =$

--	--

$17 - 10 =$

--	--

$16 - 15 =$

--	--

Datum: _____

10	
7	
	3

10	
5	
	5

10	
6	
	4

Datum: _____

Sample Book



1. Zonle neem elke dag R4 skool toe.
Hoeveel geld neem sy in 'n week?

2. 'n Voël vlieg elke dag 3 km.



3. Dit reën op 3 dae van die week.
Hoeveel dae reën dit in 4 weeke?

1. 'n Boer plant 1000 aarbeiplante.
Hoeveel aarbeie produseer hy?



2. Hoeveel hondjies is daar?



3. Hoeveel katte is daar?



Sample Book

Datum: _____

1 minder 1 meer
[] [] 16 [] []

1 minder 1 meer
[] [] 19 [] []

1 minder 1 meer
[] [] 20 [] []

Datum: _____


3 minder 2 meer
[] [] 18 [] []

2 minder 3 meer
[] [] 17 [] []

3 meer
[] [] 16

1 meer
[] [] 19

Verbind die k



Datum: _____

140

es

1 minder 20 1 meer



3 minder 18 2 meer

2 minder 17 3 meer

Datum: _____

voor 63 ná

voor 92 ná

voor 39 ná

voor - ná

voor ná

51

51

47

60

24

Datum: _____

2

1.

3. Helfte

4. Helfte van 12 =

5. Helfte van 20 =

6. Helfte van 18 =

Sample Book

Datum: _____ 143

1. Dubbel 5 =

2. Dubbel 6 =

3. Dubbel 7 =



Datum: _____

Volt

1.

2.

3.

4. ;



Datum: _____

...patrone uit.

; ;

; ;

;

;

4. -

Sample Book

Datum: _____ 146

Brei hierdie getalpatrone uit.

Gebruik 'n getalrooster met 100 gr

89 : 88 : 87 : : :

74 : 72 : 70 : : :

95 : 90 : 85 : : :

100 : 90 : 80 : : :

60 : 57 : 54 : : :

Datum: _____

Trek lyne om die korrekte blokkie te pas.



Datum: _____

Merk die korrekte blokkie.



sfeer

rol

prisma

kubus

prisma

Sample Book

Datum: _____ 149



Datum: _____

Voltooi die prente deur die voltooide helfte te



Datum: _____

Trek 'n lyn



KOPTE...TA

Sample Book

1. K

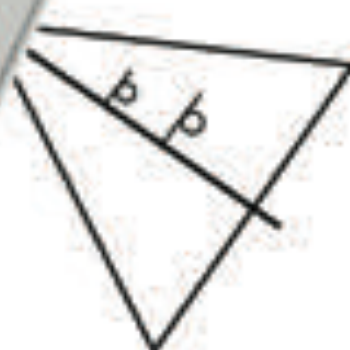
2

68

In.

on In.

elbeeld van



rekte woord.

stadiger
vinniger

stadiger
vinniger

Datum: _____ 152

Trek lyne van die preke tot die woorde.
wat jy dink die preke beteken.



Datum: _____

Nommer die maande Januarie tot Desember.

-
-
-
-
-

- Desember
- Februarie
- Junie
- Oktober
- April
- Julie

Sample Book

Datum: _____ 154

1. Nommer die slange van die langst

5



2. Hoe lank is jou tafel _____ in die blokkies.



_____ nande

--	--

_____ jou voete

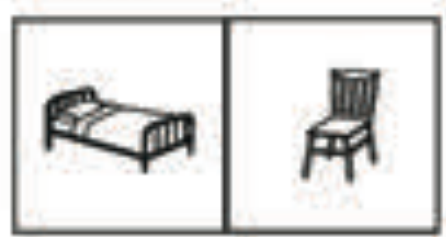
--	--

_____ jou potlood

--	--

Datum: _____

Kleur die _____ arder is:

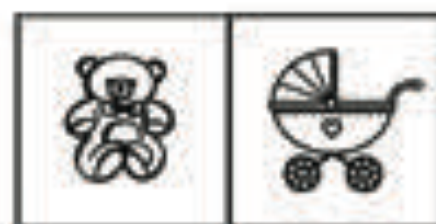


Sample Book

Datum: _____ 156

70

Kleur die voorwerpe in wat ligter is:



Datum: _____

Nommer die voorwerp
die minste volume het.

ys water het
die volume het.





Kinder

hand				
kat				
vis				
hamster				
muis				
haas				
slang				

Sample Book

Sleutel

 = 2 diere

 = 2 hase

1. Hoeveel kinder

2. Hoeveel kin

3. Hoekom

honde het as slange?

4. Dac

as

5. T

, die gewildste en die tweede